

Nombre _____

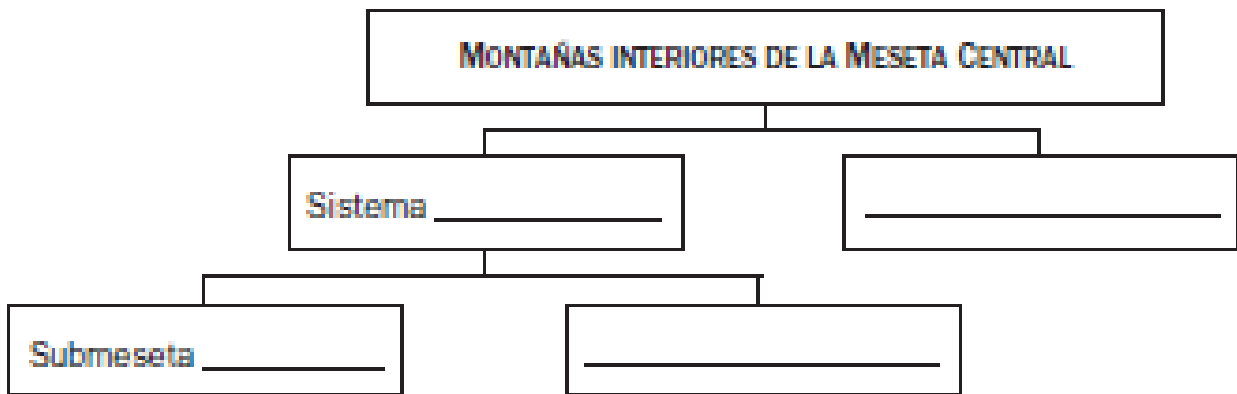
Fecha _____

Recuerda

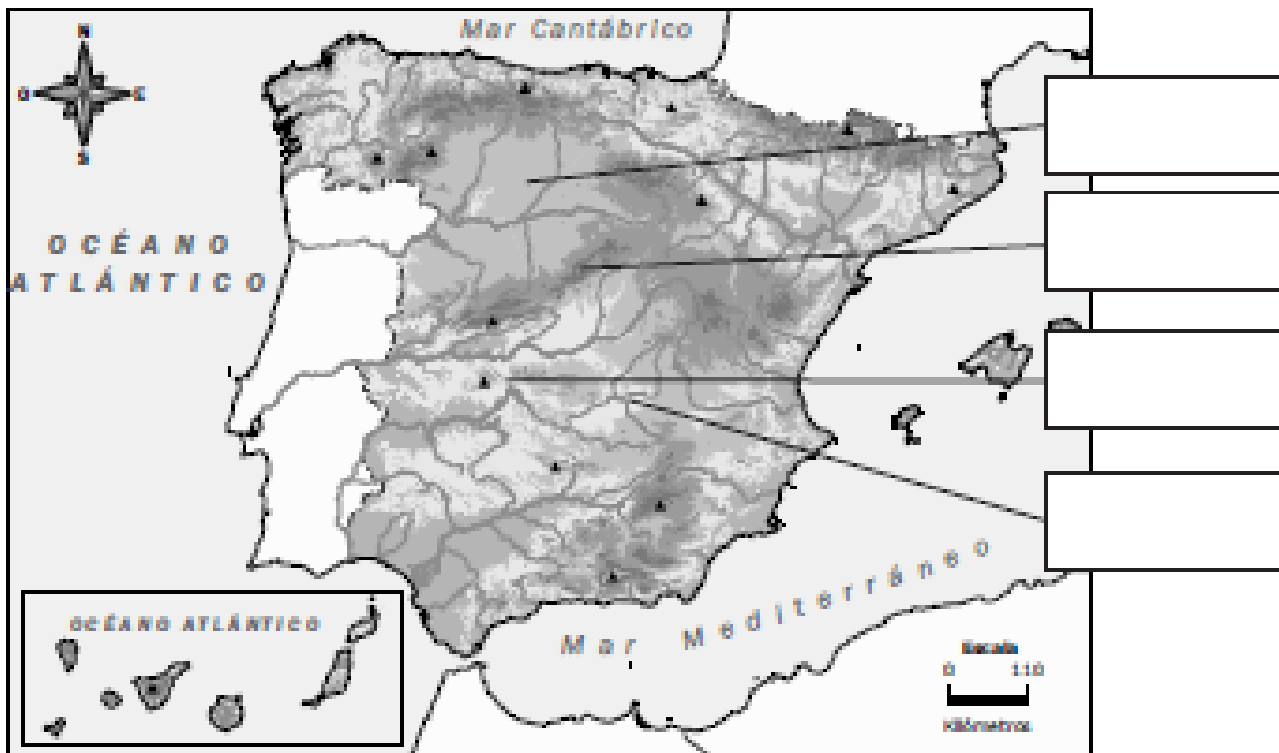
En el centro de la Península está la **Meseta Central**, que es una llanura elevada.

Las montañas del interior de la **Meseta** son los **Montes de Toledo** y el **Sistema Central**, que divide la **Meseta** en dos: la **Submeseta Norte** y la **Submeseta Sur**.

1. Completa el esquema.



■ Ahora, completa el mapa con el nombre de esas unidades de relieve.



Nombre _____ Fecha _____

Recuerda

- La Meseta está rodeada por los Montes de León, la Cordillera Cantábrica, el Sistema Ibérico y Sierra Morena.
- Fuera de la Meseta están la depresión del Ebro y la depresión del Guadalquivir, y cinco cordilleras: el Macizo Galaico, los Montes Vascos, los Pirineos, el Sistema Costero-Catalán y los Sistemas Béticos.

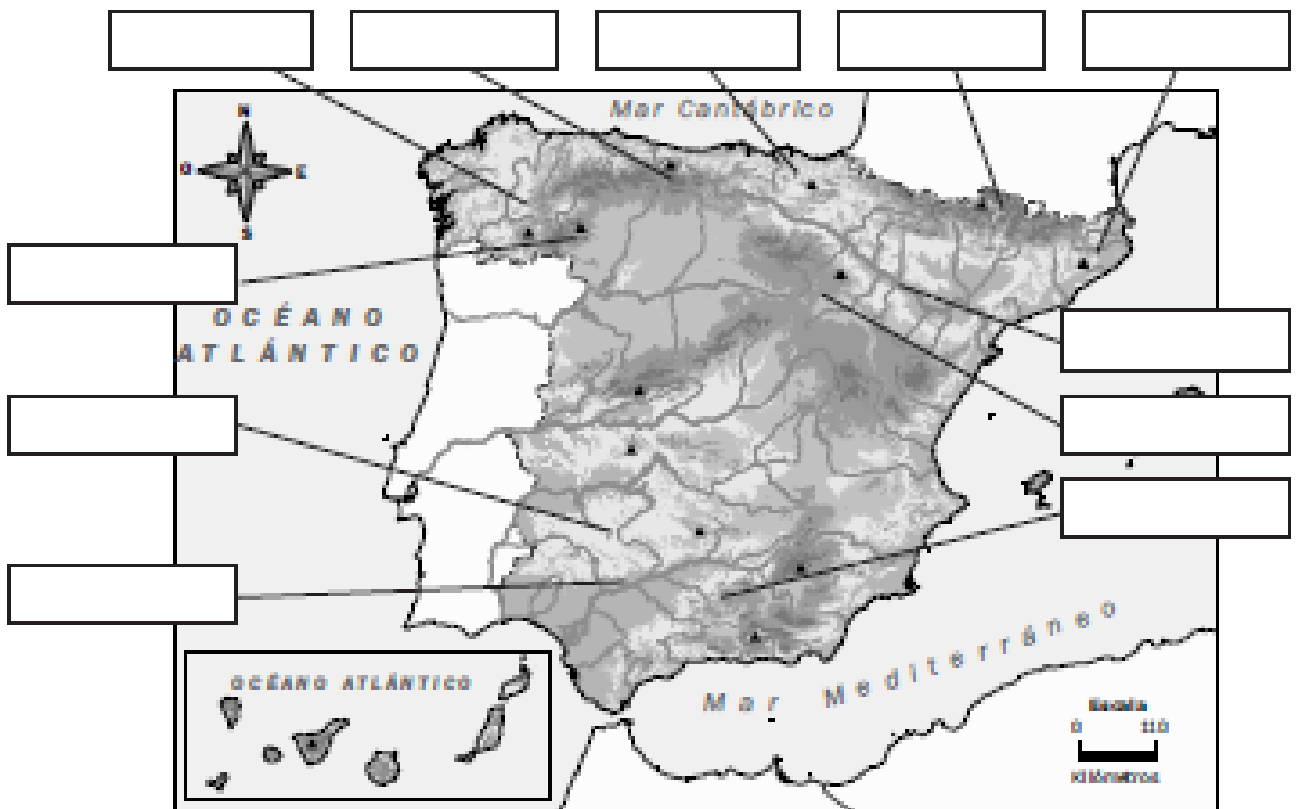
1. Completa el esquema.

Montañas que rodean la Meseta Central

Depresiones exteriores a la Meseta Central

Montañas exteriores a la Meseta Central

■ Ahora, completa el mapa con el nombre de esas unidades de relieve.



Nombre _____ Fecha _____

Recuerda

España tiene una extensa costa que se divide en: costa **cantábrica**, costa **atlántica** y costa **mediterránea**.

Las **Islas Baleares** se encuentran en el mar Mediterráneo y las **Islas Canarias** en el océano Atlántico.

1. Completa el mapa con los siguientes nombres.

Mar Cantábrico

Océano Atlántico

Mar Mediterráneo

Islas Canarias

Islas Baleares

**2. Escribe el nombre de las Islas que forman parte de cada archipiélago.**

Archipiélago canario

Archipiélago balear

Nombre _____ Fecha _____

Recuerda

El relieve de España está organizado de la siguiente manera:

- En el centro está la Meseta Central. En el interior de la Meseta hay dos cadenas montañosas.
- Alrededor de la Meseta hay cuatro cordilleras.
- Fuera de la Meseta, hay cinco cadenas montañosas y dos amplias depresiones.
- Además, hay dos archipiélagos y los territorios de Ceuta y Melilla, al norte de África.

1. Completa el croquis con los nombres que faltan.